

准考证号 _____ 姓名 _____

(在此卷上答题无效)

机密★

江西省 2020 年中等学校招生考试

道德与法治·历史试题卷

温馨提示:



说明:1. 全卷满分 120 分(道德与法治 70 分、历史 50 分),考试时间 120 分钟。
2. 请将答案写在答题卡上,否则不给分。

道德与法治部分

一、单项选择(每小题只有一个最符合题意的选项,将所选选项前面的字母填涂在答题卡相应位置上。每小题 2 分,共 34 分)

- 2019 年 10 月 28 日至 31 日,中国共产党第十九届中央委员会第四次全体会议在北京举行。全会审议通过了《中共中央关于坚持和完善中国特色社会主义制度、推进 _____ 若干重大问题的决定》。
A. 科学技术现代化
B. 审判体系和审判能力现代化
C. 国防和军队现代化
D. 国家治理体系和治理能力现代化
- 2019 年 12 月 17 日,我国第一艘国产航空母舰 _____ 在海南三亚某军港交付海军。
A. 辽宁舰
B. 南昌舰
C. 山东舰
D. 海口舰
- 2019 年 9 月 4 日,国际灌排委员会第七十届执理会公布了第六批世界灌溉工程遗产名录,中国的“_____”“_____”名列其中。
①内蒙古河套灌区
②杭州良渚古城遗址
③江西抚州千金陂
④江西泰和槎滩陂
A. ①②
B. ①③
C. ②④
D. ③④
- “你学习的样子真美!”13 岁女孩宁欣然,因新冠肺炎疫情滞留山区老家,村里只有山上信号比较好,她就每天搬着小桌子爬到山顶上网课。宁欣然的样子“美”在
A. 克服困难,努力学习
B. 与人为善,宽以待人
C. 文明有礼,平等待人
D. 关爱他人,热心公益
- 江西省“新时代好少年”张一诺,酷爱打乒乓球。她坚持刻苦训练,打乒乓球的技能不断得到提高。在江西省第十五届运动会上,她获得乒乓球女子丁组单打冠军。这说明,做更好的自己
A. 只能接纳自己的优点
B. 要坚持以个人利益为重
C. 要全面接受他人评价
D. 要不断激发自己的潜能

14. 2020年5月28日,十三届全国人大三次会议通过了《全国人民代表大会关于建立健全香港特别行政区维护国家安全的法律制度和执行机制的决定》。这

- ①彰显了我国维护国家安全的坚定决心 ②有利于保持香港长期繁荣稳定
③弘扬了以爱国主义为核心的时代精神 ④体现了国家一切权力属于全国人大

A. ①② B. ②③ C. ①④ D. ③④

15. 2020年4月30日,江西省政府在江西内陆开放型经济试验区建设新闻发布会上公布:高水平建设景德镇国家陶瓷文化保护传承创新基地,打造世界著名陶瓷文化旅游目的地、国际陶瓷文化交流交易中心,打造对外文化交流新平台。这些举措

- ①能够消除我国与世界各国的文化差异 ②体现了我省坚持开放的发展理念
③有利于中华优秀传统文化创新性发展 ④说明我省大胆吸收一切外来文化

A. ①③ B. ①④ C. ②③ D. ②④

16. 2020年6月8日至10日,习近平总书记到宁夏考察调研。考察期间,习近平总书记强调:“无论是全面小康、脱贫还是现代化,一个少数民族也不能少。各族群众是一个大家庭,要携手并进。”这说明,我国

- A. 已完成祖国和平统一大业
B. 已全面建成社会主义现代化强国
C. 坚持民族区域自治制度这一根本政治制度
D. 坚持民族平等、民族团结和各民族共同繁荣的基本原则

17. 截至2019年10月底,中欧班列累计开行近2万列。我国生产的汽车配件、机械设备远销俄罗斯等国,西班牙、白俄罗斯的农产品进入中国百姓家庭。这体现了

- A. 经济全球化 B. 社会信息化 C. 文化多样化 D. 国际关系民主化

二、简要回答(简明扼要,条理清楚。每小题6分,共12分)

18. 家里有亲人,家中有亲情。

▲受新冠肺炎疫情影响,九年级学生小云按照学校统一安排,在家进行线上学习。小云爸爸为此准备了一台专用电脑,并提供网络技术保障。妈妈则负责“后勤保障”,还常常提醒小云按时听网课,指导小云作业。在这段特殊的日子,小云倍感家的温暖。

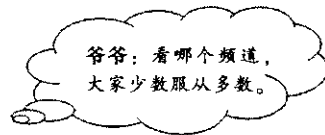

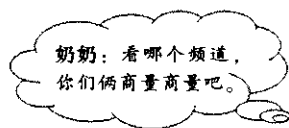
(1)阅读材料,回答问题。

①小云享有的基本权利是:_____。(1分)

②小云父母履行的基本义务是:_____。(1分)

③结合材料分析①②之间的关系,从中可知:_____。(2分)


▲生活中,难免会产生意见分歧。有一次,小云一家人一起看电视,爸爸说看这个频道,妈妈说看那个频道。为统一意见,爷爷、奶奶提出了两种解决方式。



(2)如果你是小云,赞同谁提出的解决方式,请运用所学知识说明理由。(2分)

19. 安全记心中,法律伴我行。

(1)请结合右边漫画,谈谈骑乘摩托车为什么要佩戴安全头盔。(4分)



▲小云家的摩托车被楼上住户高空抛物砸坏了,由于找不到肇事者,楼上住户和小区物业都拒绝赔偿。于是,小云爸爸向人民法院提起诉讼,问题最终得到解决。

(2)小云爸爸的做法给我们什么启示?(2分)

三、概括与评析(结合材料,自拟题目,运用所学知识进行多角度评析。12分)

20. 结合材料,完成答题。

▲江西深入学习贯彻中共中央总书记习近平视察江西重要讲话精神,牢记习近平总书记“妩媚青山、浩淼鄱阳,不仅属于江西人民,也属于全国人民”的殷殷嘱托,坚持新发展理念,奋力打造美丽中国“江西样板”。

▲2019年12月7日,以“湿地滋润赣鄱、候鸟联通世界”为主题的鄱阳湖国际观鸟周活动开幕。鄱阳湖是江西优美生态环境的缩影,也是亚洲——澳大利亚迁徙路线上最为重要的候鸟越冬地。为保护鄱阳湖候鸟,江西严厉打击破坏候鸟资源的违法犯罪活动,有效维护了鄱阳湖候鸟越冬栖息地安全,为我国乃至全球鸟类保护做出了重大贡献。

▲王小龙在江西鄱阳湖国家级自然保护区吴城保护站工作已有30多个年头。在抗疫期间的紧要关头,王小龙连续20多天坚守护鸟岗位,监测迁徙候鸟动态,呵护着珍禽候鸟,疏导、劝返游客和当地群众,确保候鸟安全栖息。王小龙说,“保护好鄱阳湖候鸟,就像保护自己的孩子一样重要。”

(1)拟题:运用道德与法治课所学知识,自拟一个体现材料主要内容的题目。(3分)

题目:_____

(2)评论:从不同的角度对上述材料进行分析评论。(每一角度3分,共9分)

四、探究与实践(紧扣题意,综合运用所学知识进行探究与实践。12分)

21. 在磨难中成长,在磨难中奋起。返校复学后,小云所在班级开展了以“众志成城战疫情”为主题的系列课程。

【制度优势聚力量】主题班会课上,班主任播放了一个短片:

中共中央召开党外人士座谈会,就新冠肺炎疫情防控工作听取各民主党派中央、全国工商联和无党派人士代表的意见和建议;一些地方人大常委会紧急立法,在国家法律和法规框架下授权地方政府在医疗卫生、防疫管理等方面,规定临时性应急管理措施;充分发挥基层主体作用,加强群众自治,实施社区封闭式、网格化管理……一项项举措,凝聚起抗击疫情的强大力量,也充分彰显我国制度优势。

(1)这些举措表明我国坚持了哪些制度?(3分)

【创新思路谋发展】道德与法治课上,小云播报了一则新闻:

2020年4月19日,8名驻村第一书记为丰城冻米糖、安远红心蜜薯、高安腐竹等扶贫农产品“直播带货”,当天销售额达610余万元。在疫情防控大背景下,“直播带货”模式顺应网络化、数字化、智能化趋势,成为破解农产品因疫情影响而滞销等问题的“快捷键”,也为各地推动脱贫攻坚和乡村振兴提供了新思路。

(2)从这则新闻中可以感悟到哪些道理?(4分)

【心理健康促成长】心理健康教育课上,有同学说,这次疫情打破了平静的学习和生活,产生了一些心理困惑。

(3)请针对下列心理困惑,运用所学知识写出对策。

◆困惑:面临考试,感到压力很大,心里非常焦虑。

①对策:_____。(1分)

◆困惑:面对未来,目标左右不定,内心有些迷茫。

②对策:_____。(1分)

【热爱劳动担责任】劳动教育课上,老师说,“疫情防控离不开千千万万劳动者的坚守和奉献。希望同学们弘扬劳动精神,勤于劳动,勇于担当。”

劳动最光荣

我的岗位: 班级盆栽管理员

职 责: 及时为盆栽浇水、施肥、修剪等。

劳动最光荣

我的岗位: _____ (1分)

职 责: _____

_____ (2分)

(4)请仿照示例,写出一个校园劳动岗位及其职责。

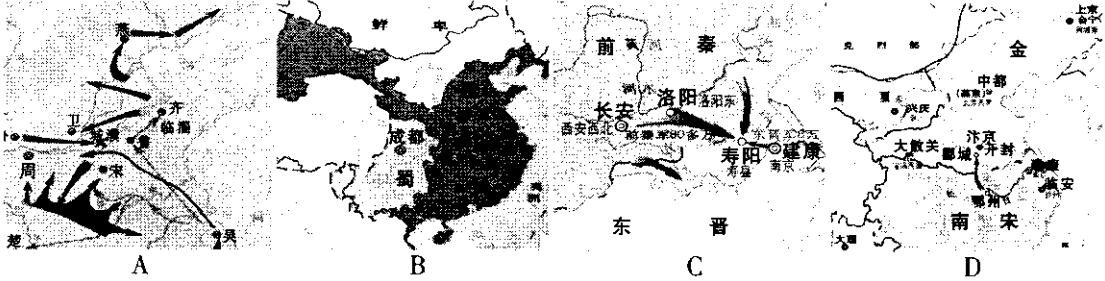
历史部分

一、选择题(本大题共 12 小题,每小题 2 分,共 24 分。在每小题列出的四个选项中,只有一项符合题目要求。请将答案按要求填涂在答题卡的相应位置。)

1. 他指出“人法地,地法天,天法道,道法自然”,认为万物运行有其自然的法则,人们应顺应自然。他代表的学派是

- A. 道家 B. 儒家 C. 法家 D. 墨家

2. 下面四幅形势图,与岳飞事迹相关的是



3. 江南制造局从美国购置了“制器之器”,设备完整,机械化程度较高。到 19 世纪 90 年代,该局已发展成为中国乃至东亚机器设备最齐全、工艺制造技术最先进的兵工企业。材料可以印证洋务运动

- A. 引进了西方先进技术 B. 巩固了清政府统治
C. 抵制了外国资本入侵 D. 实现了中国的富强

4. 右边漫画反映的历史事件对中国造成的影响是

- A. 使中国开始变为半殖民地半封建社会
B. 使中国半殖民地化程度进一步加深
C. 大大加深了中国半殖民地化程度
D. 使中国完全陷入半殖民地半封建社会的深渊



《列强征服中国》1900 年

5. 这面旗帜召唤着全中国的各党各派各界各军,召唤着全中国的工农兵学商,召唤着海内外的华夏儿女,众志成城,同仇敌忾,筑起了中华民族抗击日本侵略者的钢铁长城。“这面旗帜”是

- A. 民主与科学 B. 国民党正面战场的抗战
C. 抗日民族统一战线 D. 共产党敌后战场的抗战

6. 从 1980 年至 1985 年的 5 年里,深圳实际利用外资 12.8 亿元,初步形成了 9 个工业区,香港和国外商人纷纷涌进深圳办厂、开公司。出现这种现象的原因是

- A. “一五计划”的推行 B. 家庭联产承包责任制的实施
C. 经济特区的设立 D. “一国两制”伟大构想的实践

7. “庄园规定庄园中的男子不能娶庄园外的女子,同样庄园中的女子不能嫁到庄园之外,除非得到庄园主的特别恩准。”材料表明

- A. 庄园主具有一定的权威 B. 庄园主完全决定农奴的婚姻
C. 庄园是西欧社会的基础 D. 庄园法庭限制庄园主的特权

8. 阿拉伯人伊本·西那的医学著作《医典》传入欧洲后,长期是西方大学的医学教科书,仅在 15 世纪最后 30 年中就重印 15 次。材料说明

- A. 阿拉伯文化大量吸收、消化外来文化
B. 阿拉伯人为世界文化发展作出了重大贡献
C. 阿拉伯文化是西方文明的起源
D. 阿拉伯人将中国的印刷术传入欧洲

9. 这次革命是“幸福和光荣的革命,这是英国人的好运,从专制过渡到宪政是通过没有流血的方式进行的。”这次革命开启的新政治模式是
 A. 中央集权制 B. 君主立宪制 C. 联邦共和制 D. 民主共和制
10. 西蒙·玻利瓦尔曾经说:“独立是唯一的赐福,要以其他一切为代价。”他践行的“独立”是
 A. 美国独立战争 B. 法国大革命 C. 拉丁美洲独立运动 D. 印度民族大起义
11. 该书大概是 19 世纪最具争议的著作,其中的观点大多数为当今的科学界接受,书中第一次系统阐述了进化论。创作“该书”的是
 A. 但丁 B. 达尔文 C. 牛顿 D. 贝多芬
12. 苏联全盘集体化运动开展后,全国各地互相竞赛,一些地方用武力威胁等手段,强迫农民加入集体农庄。在集体化高潮中,消极怠工等成为普遍现象,在不少农庄中,收获粮食时的损失率高达 20%—40%。下列对材料中农业集体化运动解读不正确的是
 A. 片面追求集体化的速度 B. 违背了农民自愿原则
 C. 挫伤了农民劳动积极性 D. 促进了农业生产发展

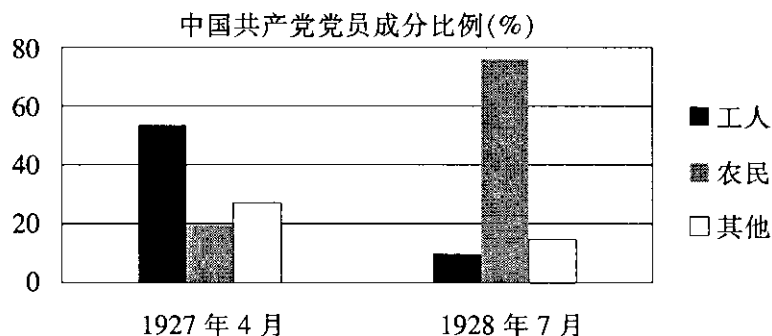
二、判断题(本大题共 3 小题,每小题 2 分,共 6 分。结合所学知识,判断下列有关史实或史论是否正确。正确的请在答题卡上涂“T”,错误的涂“F”。)

13. “古者诸侯不过百里,强弱之形易制……愿陛下令诸侯得推恩分弟子,以地侯之。”材料中这一措施的实施,加强了中央对地方的控制。
14. “陕北的人民军队掩护中共中央机关和人民群众安全转移,主动撤出延安,开始了艰苦的陕北转战。国民党军队的将领们因占领延安而兴高采烈,但他们很快发现高兴得太早了。”材料反映的事件揭开了人民解放军战略进攻的序幕。
15. “1948 年英国基本实现了全民保障,当时的首相艾德礼宣布英国已建成福利国家。实行社会福利制度可以缓和社会矛盾,减轻资本主义制度所承受的反抗压力。”材料表明福利国家的建成可以解决资本主义制度的基本矛盾。

三、综合题(本大题共 3 小题,第 16 题 4 分,第 17 题 6 分,第 18 题 10 分,共 20 分。)

16. (4 分)阅读下列材料,回答问题。

材料



——摘编自沙健孙《毛泽东与中国革命新道路的开辟:土地革命战争时期历史论要》

- (1)根据上图,指出中国共产党党员成分中工人、农民比例的变化。(2分)
- (2)结合所学知识,指出与这一变化相关的史实。(2分)

17. (6分) 阅读下列材料, 回答问题。

材料一 几个世纪以来, 共有1000万非洲奴隶被运送到西半球, 其中1720-1820年占一半以上, 死在海上的达9%-16%。1000万奴隶中, 40万被运送到今美国境内的各个殖民地。

——摘编自托马斯·索威尔《美国种族简史》

(1) 材料一反映了什么史实? (1分) 结合所学知识, 说明这一史实对非洲造成的影响。(1分)

材料二 第二章“人民”, 规定: 中华民国人民一律平等, 无种族、阶级、宗教之区别; 人民享有人身、财产、考试、选举及被选举等自由和权利。

——摘编自《中华民国临时约法》

(2) 材料二中规定的内容体现了什么原则? (1分) 它是哪一次革命的重要成果? (1分)

材料三 广西壮族自治区环江县是全国唯一的毛南族自治县, 全县有毛南族6.45万人, 占全国毛南族总人口的70%左右。2020年5月, 环江县退出贫困县序列。综合全国毛南族脱贫情况, 毛南族实现整族脱贫。

——《求是》2020年第11期

(3) 根据材料三和所学知识, 指出毛南族自治县建立所依据的政治制度。(1分) 毛南族实现整族脱贫有什么重要意义? (1分)

18. (10分) 安全是保障人民生命财产、维护国家稳定发展、促进世界和谐进步的前提和基础。阅读下列材料, 回答问题。

【国防安全】

材料一 嘉靖三十七年(1558年), 戚继光发现浙江金华府义乌县的矿徒“剽悍可用”, 于是招募了3000人组成“戚家军”。经过严格训练, 操练新阵法, “戚家军”成为一支勇猛善战的劲旅。

——摘编自朱绍侯等《中国古代史(下)》

(1) 根据材料一, 概括“戚家军”的特点。(1分) 结合所学知识, 指出组建“戚家军”的目的。(1分)

【生命安全】

材料二 第一次世界大战以极其残酷的杀戮为主要特点。大约900万人战死, 2000多万人受伤, 350万人终生残疾。德、俄、法、奥的伤亡人数占全部伤亡人数的66.6%。



一战墓地

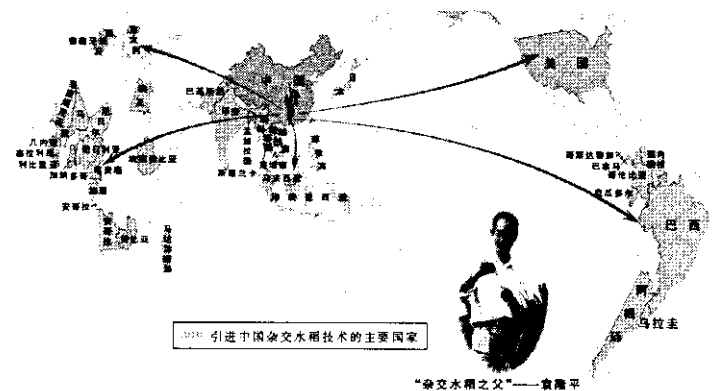
——普通高中教科书历史必修《中外历史纲要(下)》

(2) 根据材料二, 说明第一次世界大战给人类带来的伤害。(1分) 指出第一次世界大战中因残害众多生命被形容为“地狱”的战役。(1分)

【粮食安全】

材料三 如右图

(3) 袁隆平培育的杂交水稻, 为保障我国的粮食安全作出了巨大贡献。根据右图提供的信息, 请你拟定一个合适的标题。(2分)



【信息安全】

材料四 社会信息化带给人们便利的生活, 也带来种种弊端。它使保护个人隐私变得越来越困难, 甚至影响着个人生命财产安全; 它让网络成为良莠不齐的各种意见的汇集地, 甚至成为个别别有用心的人、集团或个人利用的工具。

——摘编自普通高中教科书历史必修《中外历史纲要(下)》

(4) 根据材料四, 概括社会信息化给个人和国家带来的问题。(2分)

(5) 综合上述材料, 请你任选一个角度, 谈谈如何保障安全。(2分)

江西省2020年中等学校招生考试

道德与法治试题参考答案

一、单项选择(每小题2分,共34分)

- 1.D 2.C 3.B 4.A 5.D 6.B 7.A 8.B 9.C 10.D
11.B 12.A 13.C 14.A 15.C 16.D 17.A

二、简要回答(每小题6分,共12分)

18. (1)①受教育权。

②父母抚养教育未成年子女的义务。

③权利义务相统一。权利的实现需要义务的履行,义务的履行促进权利的实现。我们的成长离不开家庭的哺育和支持。

(2)答案一:赞同奶奶提出的方式。理由:有效交流和沟通,可以增进理解,化解矛盾和冲突。

答案二:赞同爷爷提出的方式。理由:我们要营造平等、民主的家庭氛围。在现代社会,民主应该成为公民的一种生活方式和生活态度。

19. (1)①法律要求做的必须去做。我们应增强法治观念,依法自律,做一个自觉守法的公民。

②生命至上,我们要增强安全意识、自我保护意识,珍爱生命。

(2)在权益受到侵害时,要及时寻求法律救助,依靠法律维护自己的合法权益。诉讼是处理纠纷和应对侵害最正规、最权威的手段,是维护合法权益的最后屏障。

三、概括与评析(12分)

20. (1)拟题。题目如:《江西加强生态文明建设》《坚持绿色发展 建设美丽鄱阳湖》等。

(2)评论。例答:

①从中国共产党领导的角度:中国共产党领导是中国特色社会主义最本质的特征,是中国特色社会主义制度的最大优势,党是最高政治领导力量。

②从生态文明建设的角度:建设生态文明,促进人与自然和谐共生,要坚持保护环境的基本国策,坚持绿色的发展理念,实现中华民族永续发展。走绿色发展道路,建设生态文明,实现可持续发展,已经成为当代中国的发展共识。

③从法治的角度:依法治国是党领导人民治理国家的基本方略。坚持厉行法治,要推进科学立法、严格执法、公正司法、全民守法。只有实行严格的制度、严密的法治,才能为生态文明建设提供可靠保障。

④从中国担当的角度:面对各种区域性和全球性的危机与难题,中国积极主动地承担起相应的责任。作为一个负责任的大国,中国努力提高自身在国际上的影响力、感召力和塑造力,致力于成为全球发展的贡献者。

⑤从爱岗敬业的角度:每一种职业都承担一定的社会责任,每一个工作岗位都有相应的岗位职责要求。只有热爱本职工作,脚踏实地、勤勤恳恳,才能实现自己的人生价值。

四、探究与实践(12分)

21. (1)①中国共产党领导的多党合作和政治协商制度。

②人民代表大会制度。

③基层群众自治制度。

④社会主义制度。

(2)①党和政府坚持以人民为中心的发展思想,引领全体人民携手迈入全面小康社会,朝着共同富裕方向稳步前进。

②网络为经济发展注入新的活力。网络推动社会进步。

③创新是引领发展的第一动力。生活的各个领域都需要创新,也都可以创新。

(3)①合理调节情绪,坦然面对学习压力。

②坚定理想信念,志存高远,脚踏实地。

(4)例答:

岗位:班级卫生委员;职责:管理班级卫生,安排和参加卫生大扫除活动等。

岗位:校园图书角管理员;职责:负责图书角图书的整理、保管、借阅登记等。

江西省2020年中等学校招生考试

历史试题参考答案

一、选择题(本大题共12小题,每小题2分,共24分。)

1.A 2.D 3.A 4.D 5.C 6.C 7.A 8.B 9.B 10.C 11.B 12.D

二、判断题(本大题共3小题,每小题2分,共6分。)

13.T 14.F 15.F

三、综合题(本大题共3小题,第16题4分,第17题6分,第18题10分,共20分。)

16. (1)变化:工人成分比例下降,农民成分比例上升。

(2)史实:农村革命根据地的建立;中国革命从城市转入农村;创造了“工农武装割据”的局面(或开辟了农村包围城市,武装夺取政权的革命道路);国民革命失败(或四一二反革命政变)。

17. (1)史实:“三角贸易”(或黑奴贸易)。

影响:给非洲带来深重的灾难(或给非洲带来落后、贫困、人口锐减等)。

(2)原则:平等自由原则(或民主自由原则)。

革命:辛亥革命。

(3)政治制度:民族区域自治制度。

意义:有利于实现各民族共同繁荣发展;有利于各民族共同团结奋斗;有利于维护民族团结,促进少数民族地区发展;有利于全面建成小康社会。

18. (1)特点:创新阵法;训练严格;人员剽悍;勇猛善战。

目的:抗击倭寇;平定倭患;巩固海防;巩固国防。

(2)伤害:造成大量的人员伤亡;造成严重的心灵创伤。

战役:凡尔登战役。

(3)标题:杂交水稻为世界粮食安全作出巨大贡献;中国杂交水稻技术在世界推广。

(4)问题:泄露个人隐私,影响个人生命财产安全;网络信息被恶意利用,威胁国家信息安全。

(5)加强国防建设,巩固国防安全;维护世界和平,保护生命安全;重视粮食生产,保障粮食安全;加强网络监管,保证信息安全。